

Rekenen

Groep 6 · medio (M6)

NAAM

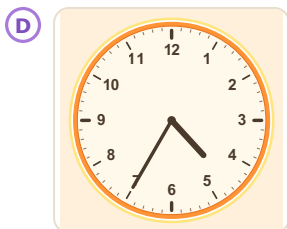
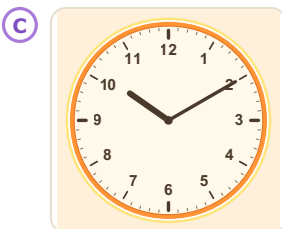
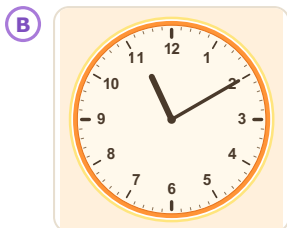
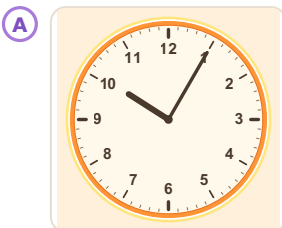
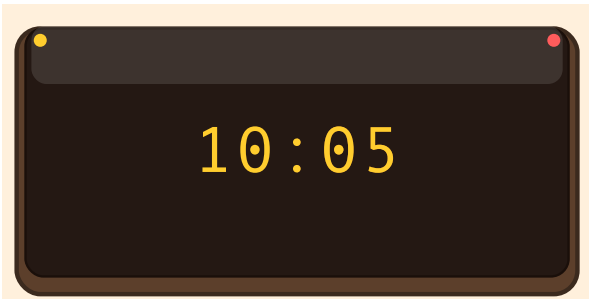
DATUM

SCORE / 18

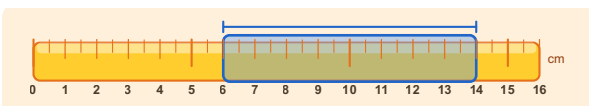
Reken rustig en schrijf je antwoord in het vak. Antwoorden staan op de laatste bladzijde.

1 3, 6, 12, 24, ?. Welk getal komt op de plaats van het vraagteken?

2 Kijk naar de digitale klok. Welke klok geeft dezelfde tijd aan?



3 Hoe lang is het stokje in centimeter?



..... cm

4 Je koopt verschillende producten. Hoeveel euro is yoghurt duurder dan melk?

Kassabon		
Artikel	Aantal	Prijs
yoghurt	1	€ 1,99
kip	1	€ 5,50
melk	1	€ 1,49
appels	1	€ 2,50
brood	1	€ 2,15
Totaal		€ 13,63

€

5 Hoeveel meer bezoekers heeft Museum A dan Museum B?

Bezoekers aan twee musea	
Naam	Aantal
Museum A	437
Museum B	122

..... bezoekers

6 $2.853 - 1.564 = \underline{\quad}$





Rekenen

Groep 6 · medio (M6)

Werkblad A — vervolg · pagina 2

- 7 Tante Nel haalt 100 gram suiker uit een vol pak.
Het pak bevat 2 kg suiker.
Hoeveel gram suiker blijft er over?

- 8 Welke regel beschrijft dit patroon?
1, 3, 9, 27

- A Steeds +3
- B Steeds $\times 2$
- C Steeds $\div 3$
- D Steeds $\times 3$

- 9 Zet de getallen van klein naar groot.
6.080, 2.892, 4.114, 313, 788

- A 313, 788, 2.892, 4.114, 6.080
- B 313, 2.892, 6.080, 788, 4.114
- C 788, 2.892, 4.114, 313, 6.080
- D 788, 4.114, 313, 6.080, 2.892
- E 4.114, 313, 788, 6.080, 2.892

- 10 $43 + 57 + 25 = \underline{\quad}$

- 11 Welke vorm heeft 4 gelijke zijden maar GEEN rechte hoeken?

- A ruit
- B trapezium
- C vierkant
- D rechthoek

- 12 Gegeven: $50 \times 2 = 100$.
 $50 \times 6 = \underline{\quad}$

- 13 Teun heeft boodschappen gedaan bij Albert Heijn en € 10,46 betaald (zie kassabon hieronder).
Er zit een rekenfout op de bon, waardoor Teun te veel heeft betaald.
Hoeveel euro had Teun eigenlijk moeten betalen?

Albert Heijn	
1x kilo appels	€ 2,29
2x pak melk (per stuk € 1,29)	€ 3,87
2x pak boter (per stuk € 2,15)	€ 4,30
TOTAAL	€ 10,46

- 14 Je begint met het getal 1. Bij elke stap ga je verdubbelen.
Hoeveel stappen zijn er nodig om bij 32 uit te komen?





Rekenen

Groep 6 · medio (M6)

Werkblad A — vervolg · pagina 3

- 15 In welke winkel is 1 kilogram aardbeien het goedkoopst?

Prijzen aardbeien		
Winkel	Hoeveelheid	Prijs
Plus	200 gram	€ 0,49
Jumbo	750 gram	€ 4,37
Vers & Lekker	300 gram	€ 1,28
Albert Heijn	250 gram	€ 0,84

- A Plus
- B Jumbo
- C Vers & Lekker
- D Albert Heijn

- 16 Eva heeft € 11,00 meegekregen om boodschappen te doen. Eva moet kopen: kilo appels, tros bananen, pak melk, brood, pot tomatensaus, pak boter. Hoeveel euro komt Eva tekort?

Albert Heijn	
kilo appels	€ 2,29
tros bananen	€ 1,79
pak melk	€ 1,29
brood	€ 2,49
pot tomatensaus	€ 1,49
pak boter	€ 2,15

€

- 17 Drie van deze vijf getallen tellen samen op tot 90: 21, 32, 33, 37, 38. Twee van die drie getallen zijn 21 en 32. Welk getal is het derde?

- 18 Welk object is ongeveer 1 meter lang?

- A een gitaar
- B een potlood
- C een voetbalveld
- D een straat



Rekenen

Groep 6 • medio (M6)

Antwoordblad

Nakijken werkt het best samen: laat je kind uitleggen hoe het tot het antwoord kwam.

- 1 48**
Elk getal wordt vermenigvuldigd met 2. Dus na 24 komt $24 \times 2 = 48$.
- 2 A.**
Kijk goed waar je de waarde kunt aflezen.
De klok geeft 10 uur en 5 minuten aan, dus 10.05 uur.
Je krijgt 10 uur 5 minuten.
- 3 8**
Het stokje begint bij 6 cm en eindigt bij 14 cm. $14 - 6 = 8$ cm.
- 4 € 0,50**
Trek het kleinere getal af van het grotere.
yoghurt: € 1,99
melk: € 1,49
Verschil: € 1,99 – € 1,49 = € 0,50
Je krijgt € 0,50.
- 5 315**
Hier moet je aftrekken.
 $437 - 122 = 315$ bezoekers
Je krijgt 315 bezoekers.
- 6 1.289**
Je berekent het verschil.
 $2.853 - 1.564 = 1.289$
Je krijgt 1.289.
- 7 1.900**
 $2 \text{ kg} = 2.000 \text{ g}$. $2.000 - 100 = 1900$ gram
- 8 D. Steeds $\times 3$**
Kijk naar de reeks: $1 \rightarrow 3 \rightarrow 9 \rightarrow 27$.
De regel is: steeds $\times 3$.
- 9 A. 313, 788, 2.892, 4.114, 6.080**
Van klein naar groot: 313, 788, 2.892, 4.114, 6.080
- 10 125**
Door handig getallen te groeperen:
 $43 + 57 = 100$, dan $100 + 25 = 125$
- 11 A. ruit**
Een ruit heeft 4 gelijke zijden maar geen rechte hoeken. Een vierkant heeft wel rechte hoeken. Een rechthoek heeft rechte hoeken. Een trapezium heeft niet altijd gelijke zijden.
- 12 300**
 $50 \times 6 = 50 \times (2 \times 3) = (50 \times 2) \times 3 = 100 \times 3 = 300$.
- 13 9,17**
De fout zit bij pak melk. $2 \times € 1,29 = € 2,58$, maar op de bon staat € 3,87.
Correct totaal: € 9,17.
- 14 5**
Stap voor stap: $1 \rightarrow 2 \rightarrow 4 \rightarrow 8 \rightarrow 16 \rightarrow 32$.
Dat zijn 5 stappen om bij 32 aan te komen.
- 15 A. Plus**
Plus is het goedkoopst: € 2,45 per kg.
- 16 0,5**
Totaal: € 11,50. Budget: € 11,00.
Tekort: € 11,50 – € 11,00 = € 0,50.
- 17 37**
De twee bekende getallen tellen op tot 53.
Het derde getal is $90 - 53 = 37$.
Controle: $21 + 32 + 37 = 90$ ✓
- 18 A. een gitaar**
Een gitaar is ongeveer 1 meter lang. Een potlood (18 cm) is veel korter, een voetbalveld (100 m) en een straat (1 km) zijn veel langer.

Liever zonder zelf nakijken?



Online op oefenplaneet.nl kijkt elke som zichzelf na – met directe uitleg en voortgang per onderwerp.



oefenplaneet.nl

Gemaakt om te oefenen voor de Cito-, IEP- en Route 8-toets. Oefenplaneet is onafhankelijk en niet verbonden aan deze toetsaanbieders.

