



# Klokkijken

Groep 6 · medio (M6)

NAAM .....

DATUM .....

SCORE / 14

Kijk goed naar de klok en schrijf je antwoord in het vak.

1 Hoe laat is het?



- A 3.45 uur
- B 9.30 uur
- C 10.25 uur
- D 10.45 uur

2 Nora neemt trein IC401 van Amsterdam naar Utrecht. De trein vertrekt om 08:45 en komt aan om 09:30. Hoe lang duurt de reis?

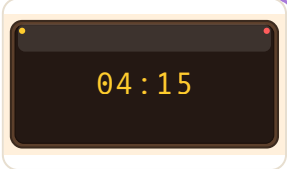
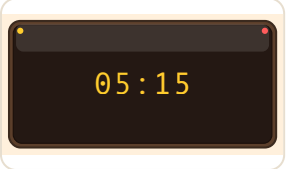
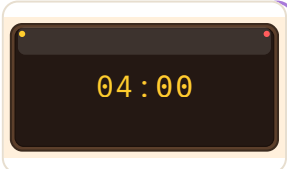
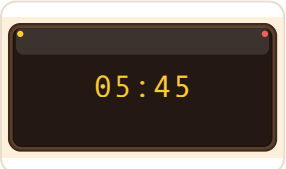
Treintabel Amsterdam → Utrecht

Trein	Vertrek	Aankomst
IC400	07:45	08:30
IC401	08:45	09:30
IC402	09:45	10:30

.....

3 Welke digitale klok geeft dezelfde tijd aan?



- A  
- C  

4 Mila reist met trein en bus naar het zwembad. De trein vertrekt om 15:00. Rijtijd trein: 45 minuten. Wachtijd op bus: 10 minuten. Busrit: 40 minuten. Hoe laat komt Mila aan?

..... uur





# Klokkijken

Groep 6 · medio (M6)

Werkblad B — vervolg · pagina 2

- 5** Kijk naar het rooster van Sporthal De Brug.  
Wanneer is zaalvoetbal op dinsdag?

Sporthal De Brug					
	Ma	Di	Wo	Do	Vr
Zaalvoetbal	16:00-17:30	—	16:00-17:30	—	16:00-18:00
Basketbal	—	16:00-17:30	—	16:00-17:30	—
Turnen	17:30-19:00	17:30-19:00	17:30-19:00	17:30-19:00	—
Badminton	19:00-21:00	19:00-21:00	19:00-21:00	19:00-21:00	18:00-20:00

- 6** De film begint om 13.15 uur.  
De film is afgelopen om 14.15 uur.  
Hoeveel uur duurt de film?

- 7** Hugo neemt trein IC402 van Amsterdam naar Utrecht. De trein vertrekt om 15:15 en komt aan om 16:20. Hoe lang duurt de reis?

Treintabel Amsterdam → Utrecht		
Trein	Vertrek	Aankomst
IC400	13:15	14:20
IC401	14:15	15:20
IC402	15:15	16:20

- 8** Kijk naar het rooster van Sporthal De Brug.  
Wanneer is badminton op woensdag?

Sporthal De Brug					
	Ma	Di	Wo	Do	Vr
Zaalvoetbal	16:00-17:30	—	16:00-17:30	—	16:00-18:00
Basketbal	—	16:00-17:30	—	16:00-17:30	—
Turnen	17:30-19:00	17:30-19:00	17:30-19:00	17:30-19:00	—
Badminton	19:00-21:00	19:00-21:00	19:00-21:00	19:00-21:00	18:00-20:00

- 9** Mama reist met trein en bus naar een activiteit. De trein vertrekt om 09:00. Rijtijd trein: 75 minuten. Wachtijd op bus: 20 minuten. Busrit: 50 minuten. Hoe laat komt Mama aan?

- 10** De wedstrijd begint om 9.00 uur.  
De wedstrijd is afgelopen om 9.15 uur.  
Hoeveel minuten duurt de wedstrijd?

- 11** Vanaf 08:30 uur vertrekt er elke 20 minuten een pendelbus naar het festival. Je komt om 09:28 uur aan bij de shuttlepunt. Hoe laat vertrekt de eerstvolgende pendelbus?





# Klokkijken

Groep 6 · medio (M6)


Werkblad B — vervolg · pagina 3

- 12 Vandaag is het 4 augustus.  
Over hoeveel dagen is het 4 september?



dagen

- 14 Vandaag is het 7 juli.  
Over hoeveel dagen is het 23 juli?



dagen

- 13 Vanaf 08:15 uur vertrekt er elke 20 minuten een trein naar Amsterdam. Je komt om 09:39 uur aan bij de perron. Hoe laat vertrekt de eerstvolgende trein?

uur



# Klokkijken

Groep 6 • medio (M6)

## Antwoordblad

**Nakijken werkt het best samen: laat je kind uitleggen hoe het tot het antwoord kwam.**

**1 B. 9.30 uur**

Lees de klok stap voor stap: kijk eerst waar de korte wijzer (uren) staat, dan waar de lange wijzer (minuten) staat. De korte wijzer wijst op 9, de lange wijzer wijst op 30 minuten. De tijd is dus 9.30 uur.

**2 45 minuten**

Een uur heeft 60 minuten — let op de overgang.  
Van 08:45 tot 09:30 is 45 minuten.  
Het antwoord is 45 minuten.

**3 D.**

Zoek de juiste regel op en lees de waarde af.  
De klok geeft 5 uur en 45 minuten aan, dus 5.45 uur.  
Het antwoord is 5 uur 45 minuten.

**4 16:35**

Een uur heeft 60 minuten — let op de overgang.  
Vertrek: 15:00  
Treinrit: 45 min  
Wachten: 10 min  
Busrit: 40 min  
Totaal: 95 minuten = 1 uur 35 minuten  
Aankomst: 16:35  
Dat wordt 16:35.

**5 —**

Zoek Di in de bovenste rij van het rooster. Lees dan de rij voor

Zaalvoetbal en zie wat er in die cel staat:  
—.

**6 1**

Bereken de duur: van 13.15 uur tot 14.15 uur. Tel eerst de volledige uren, dan de resterende minuten.  
13.15 uur tot 14.15 uur = 60 minuten. Tips: splits in uren en minuten om makkelijker te rekenen.

**7 1 uur en 5 minuten**

Een uur heeft 60 minuten — let op de overgang.  
Van 15:15 tot 16:20 is 65 minuten — dat is 1 uur en 5 minuten.  
De uitkomst is 1 uur en 5 minuten.

**8 19:00-21:00**

Zoek Wo in de bovenste rij van het rooster. Lees dan de rij voor Badminton en zie wat er in die cel staat: 19:00-21:00.

**9 11:25**

Tel uren en minuten apart bij elkaar op.  
Vertrek: 09:00  
Treinrit: 75 min  
Wachten: 20 min  
Busrit: 50 min  
Totaal: 145 minuten = 2 uur 25 minuten  
Aankomst: 11:25  
Je krijgt 11:25.

**10 15**

Bereken de duur: van 9.00 uur tot 9.15 uur. Tel eerst de volledige uren, dan de resterende minuten. 9.00 uur tot 9.15 uur = 15 minuten. Tips: splits in uren en minuten om makkelijker te rekenen.

**11 09:30**

Schema vanaf 08:30: 08:30, 08:50, 09:10, 09:30, ... Je komt aan om 09:28; dat is na de 3e bus (09:10). De volgende vertrekt 2 minuten later: 09:30.

**12 31**

Tel de dagen per stuk op: de rest van augustus:  $31 - 4 = 27$  dagen; in september: 4 dagen. Samen: 31 dagen.

**13 09:55**

Schema vanaf 08:15: 08:15, 08:35, 08:55, 09:15, 09:35, 09:55, ... Je komt aan om 09:39; dat is na de 5e bus (09:35). De volgende vertrekt 16 minuten later: 09:55.

**14 16**

Beide data vallen in juli. Tel de dagen ertussen:  $23 - 7 = 16$  dagen.

**Liever zonder zelf nakijken?**



**Online op oefenplaneet.nl kijkt elke som zichzelf na — met directe uitleg en voortgang per onderwerp.**



**oefenplaneet.nl**

Gemaakt om te oefenen voor de Cito-, IEP- en Route 8-toets. Oefenplaneet is onafhankelijk en niet verbonden aan deze toetsaanbieders.

