



# Klokkijken

Groep 6 · medio (M6)

NAAM .....

DATUM .....

SCORE / 14

Kijk goed naar de klok en schrijf je antwoord in het vak.

- 1** Kijk naar het rooster van Zwembad De Dolfijn.  
Wanneer is het recreatiebad op vrijdag open?

Zwembad De Dolfijn							
	Ma	Di	Wo	Do	Vr	Za	Zo
Wedstrijdbad	7:00-17:00	7:00-17:00	7:00-20:00	7:00-17:00	7:00-15:00	8:00-18:00	9:00-17:00
Recreatiebad	10:00-21:00	10:00-21:00	10:00-21:00	10:00-21:00	10:00-18:00	9:00-21:00	9:00-18:00
Peuterbad	10:00-17:00	Gesloten	10:00-17:00	10:00-17:00	10:00-15:00	9:00-17:00	9:00-15:00

.....

- 2** De les begint om 15.45 uur.  
De les is afgelopen om 16.00 uur.  
Hoeveel minuten duurt de les?

.....  
minuten

- 3** De wedstrijd begint om 9.15 uur.  
De wedstrijd is afgelopen om 9.45 uur.  
Hoeveel minuten duurt de wedstrijd?

.....  
minuten

- 4** Lina reist met trein en bus naar een sportwedstrijd. De trein vertrekt om 15:00. Rijtijd trein: 75 minuten.  
Wachttijd op bus: 15 minuten. Busrit: 60 minuten. Hoe laat komt Lina aan?

.....  
uur

- 5** Vandaag is het 19 januari.  
Over hoeveel dagen is het 19 februari?

januari 2025						
Ma	Di	Wo	Do	Vr	Za	Zo
		1	2	3	4	5
6	7	8	9	10	11	12
13	14	15	16	17	18	19 start
20	21	22	23	24	25	26
27	28	29	30	31		

.....  
dagen

- 6** Sam neemt trein IC402 van Amsterdam naar Utrecht. De trein vertrekt om 08:15 en komt aan om 09:00. Hoe lang duurt de reis?

Treintabel Amsterdam → Utrecht		
Trein	Vertrek	Aankomst
IC400	06:15	07:00
IC401	07:15	08:00
IC402	08:15	09:00

.....





# Klokkijken

Groep 6 · medio (M6)

Werkblad A — vervolg · pagina 2

**7** Vandaag is het 17 april.  
Over hoeveel dagen is het 17 mei?



**8** Hoe laat is het?



- A** 5.10 uur
- B** 6.10 uur
- C** 6.15 uur
- D** 6.45 uur

**9** Kijk naar het rooster van Bioscoop CineStar.  
Wat is de speeltijd van Zaal 2 op woensdag?

Bioscoop CineStar							
	Ma	Di	Wo	Do	Vr	Za	Zo
Zaal 1	14:00	14:00	11:00	14:00	14:00	11:00	11:00
Zaal 2	16:30	16:30	13:30	16:30	16:30	13:30	13:30
Zaal 3	19:00	19:00	16:00	19:00	19:00	16:00	16:00
Zaal 4	21:15	21:15	19:00	21:15	21:15	19:00	19:00

**10** Thijs reist met trein en bus naar een sportwedstrijd. De trein vertrekt om 09:00. Rijtijd trein: 75 minuten. Wachtijd op bus: 10 minuten. Busrit: 40 minuten. Hoe laat komt Thijs aan?

**11** Hugo neemt trein IC400 van Amsterdam naar Utrecht. De trein vertrekt om 15:45 en komt aan om 17:20. Hoe lang duurt de reis?

Treintabel Amsterdam → Utrecht		
Trein	Vertrek	Aankomst
IC400	15:45	17:20
IC401	16:45	18:20
IC402	17:45	19:20





# Klokkijken

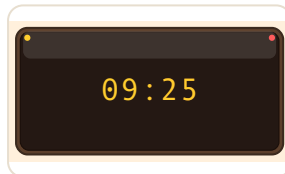

Groep 6 · medio (M6)

Werkblad A — vervolg · pagina 3

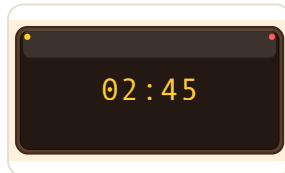
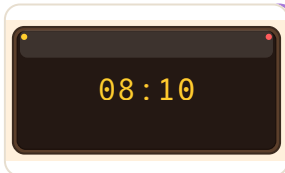
- 12 Welke digitale klok geeft dezelfde tijd aan?



A



C



- 13 Vanaf 07:30 uur vertrekt er elke 15 minuten een pendelbus naar het festival. Je komt om 08:36 uur aan bij de shuttlepunt. Hoe laat vertrekt de eerstvolgende pendelbus?

- 14 Vanaf 06:00 uur vertrekt er elke 15 minuten een veerpont naar het eiland. Je komt om 06:36 uur aan bij de aanlegsteiger. Hoe laat vertrekt de eerstvolgende veerpont?



# Klokkijken

Groep 6 • medio (M6)

## Antwoordblad

**Nakijken werkt het best samen: laat je kind uitleggen hoe het tot het antwoord kwam.**

**1 10:00-18:00**

Zoek Vr in de bovenste rij van het rooster. Lees dan de rij voor Recreatiebad en zie wat er in die cel staat: 10:00-18:00.

**2 15**

Bereken de duur: van 15.45 uur tot 16.00 uur. Tel eerst de volledige uren, dan de resterende minuten. 15.45 uur tot 16.00 uur = 15 minuten. Tips: splits in uren en minuten om makkelijker te rekenen.

**3 30**

Bereken de duur: van 9.15 uur tot 9.45 uur. Tel eerst de volledige uren, dan de resterende minuten. 9.15 uur tot 9.45 uur = 30 minuten. Tips: splits in uren en minuten om makkelijker te rekenen.

**4 17:30**

Reken stap voor stap met de tijd.  
Vertrek: 15:00  
Treinrit: 75 min  
Wachten: 15 min  
Busrit: 60 min  
Totaal: 150 minuten = 2 uur 30 minuten  
Aankomst: 17:30  
Dat wordt 17:30.

**5 31**

Tel de dagen per stuk op: de rest van januari:  $31 - 19 = 12$  dagen; in

februari: 19 dagen. Samen: 31 dagen.

**6 45 minuten**

Reken stap voor stap met de tijd.  
Van 08:15 tot 09:00 is 45 minuten.  
De uitkomst is 45 minuten.

**7 30**

Tel de dagen per stuk op: de rest van april:  $30 - 17 = 13$  dagen; in mei: 17 dagen. Samen: 30 dagen.

**8 C. 6.15 uur**

Lees de klok stap voor stap: kijk eerst waar de korte wijzer (uren) staat, dan waar de lange wijzer (minuten) staat. De korte wijzer wijst op 6, de lange wijzer wijst op 15 minuten. De tijd is dus 6.15 uur.

**9 13:30**

Zoek Wo in de bovenste rij van het rooster. Lees dan de rij voor Zaal 2 en zie wat er in die cel staat: 13:30.

**10 11:05**

Tel uren en minuten apart bij elkaar op.  
Vertrek: 09:00  
Treinrit: 75 min  
Wachten: 10 min  
Busrit: 40 min  
Totaal: 125 minuten = 2 uur 5 minuten  
Aankomst: 11:05  
Het antwoord is 11:05.

**11 1 uur en 35 minuten**

Tel uren en minuten apart bij elkaar op.  
Van 15:45 tot 17:20 is 95 minuten — dat is 1 uur en 35 minuten.  
Het antwoord is 1 uur en 35 minuten.

**12 A.**

Kijk goed waar je de waarde kunt aflezen.  
De klok geeft 8 uur en 40 minuten aan, dus 8.40 uur.  
De uitkomst is 8 uur 40 minuten.

**13 08:45**

Schema vanaf 07:30: 07:30, 07:45, 08:00, 08:15, 08:30, 08:45, ... Je komt aan om 08:36; dat is na de 5e bus (08:30). De volgende vertrekt 9 minuten later: 08:45.

**14 06:45**

Schema vanaf 06:00: 06:00, 06:15, 06:30, 06:45, ... Je komt aan om 06:36; dat is na de 3e bus (06:30). De volgende vertrekt 9 minuten later: 06:45.

**Liever zonder zelf nakijken?**



**Online op oefenplaneet.nl kijkt elke som zichzelf na — met directe uitleg en voortgang per onderwerp.**



**oefenplaneet.nl**

Gemaakt om te oefenen voor de Cito-, IEP- en Route 8-toets. Oefenplaneet is onafhankelijk en niet verbonden aan deze toetsaanbieders.

